

العلوم الحياتية

الصف العاشر

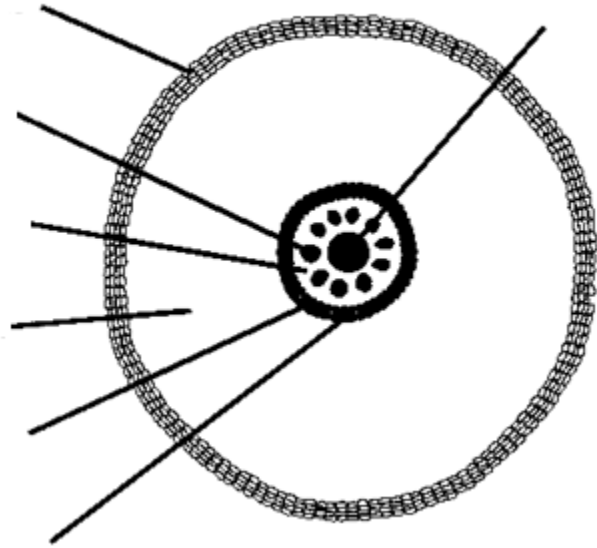
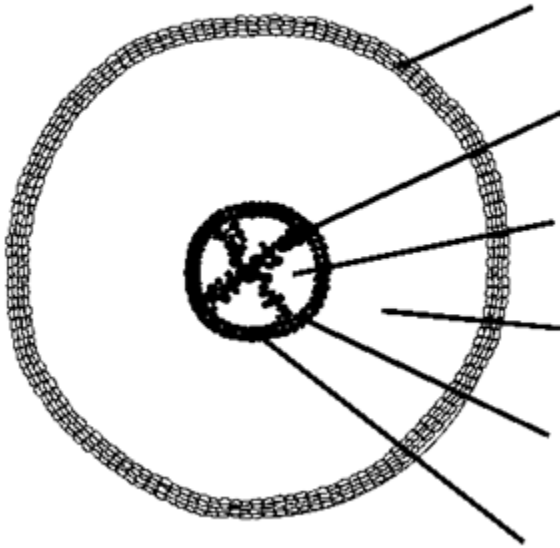
اسم الطالب:

التركيب التشريحي لجذر النبات الزهري

*ادرس الأشكال التالية ثم أجب عما يليها من أسئلة:

2.

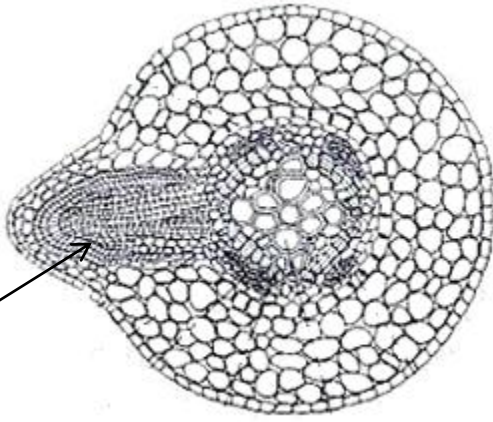
1.



1. ماذا يمثل كل من الشكل 1 و الشكل 2؟

2. اكتب الأجزاء الرئيسية المشار لها بالرسم.

3. ما الصفة الرئيسية التي تميز الشرائح السابقة؟

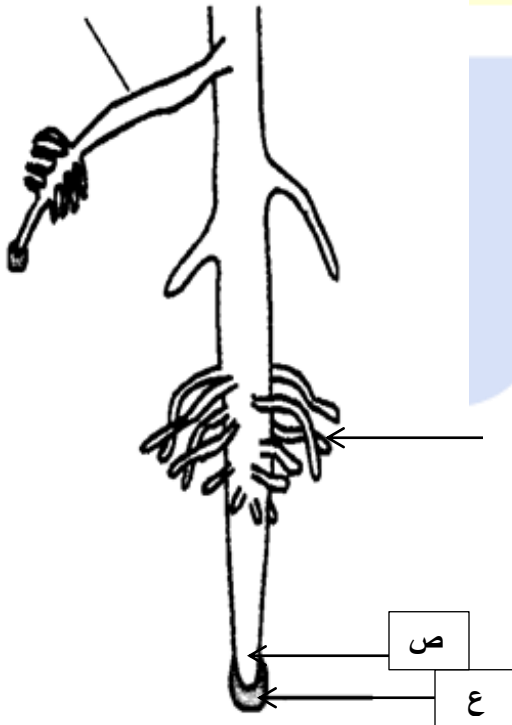


س

1. ماذا يمثل الشكل المجاور؟

2. ما الطبقة التي ينشأ منها التركيب س؟

3. ما وظيفة التركيب س؟



1. اكتب أسماء الأجزاء المشار لها بالرسم.

2. ما وظيفة الجزء ع؟

3. ما نوع النسيج المتواجد في المنطقة ص؟

